


Karta pracy

Zegar – pełne godziny


Klasa 1 - maj - blok 1 - dzień 2

Zadanie 1


Odczytaj i zapisz jaką godzinę wskazuje zegar.




.....



.....



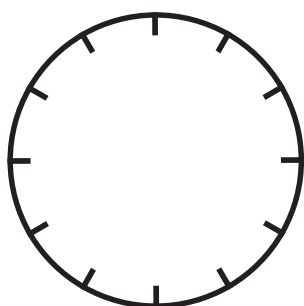
.....



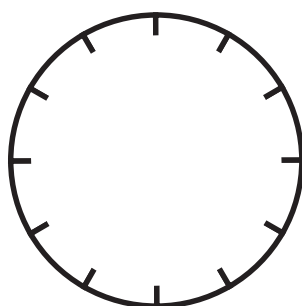
.....

Zadanie 2


Zaznacz na zegarze wskazaną godzinę.




18:00



13:00



10:00



20:00

Zadanie 3

Klasa I wróciła z wycieczki o godzinie 13:00 po południu. Wycieczka trwała 4 godziny.
O której godzinie uczniowie wyruszyli na wycieczkę do ogrodu Ani?

